

Quiz met verkeersvragen voor Nieuwleusen


Speel samen met je kennissen, vrienden of familie deze verkeersquiz.

Je krijgt 20 vragen. Aan het eind kun je de antwoorden bekijken.

Bespreek de antwoorden met je medespeler. Zo oefen je ook gelijk voor het verkeersexamen en/of een opfriscursus.



Vraag 1. Kruising Beatrixlaan – Bouwhuisweg.



Wat betekent het acht kantige verkeersbord “ STOP ”

- a. Stoppen en de tegemoet komende auto voor laten gaan
- b. Je mag voorzichtig doorrijden en alleen stoppen bij verkeer op de kruisende weg
- c. Je moet hier altijd volledig stilstaan en voorrang verlenen aan bestuurders op de kruisende weg

Vraag 2. Molenpad



Met welke maximum snelheid mogen weggebruikers rijden na bord “Nieuwleusen” ?

- a. 30 km/uur
- b. 50 km/uur
- c. 80 km/uur

Vraag 3. Burgemeester Backxlaan.



Wat betekenen de ronde bolletjes bij deze tegels in de stoep.

- a. Deze tegels zorgen voor extra afwatering
- b. Deze tegels helpen blinden en slechtzienenden bij het vinden van hun weg
- c. Deze tegels dienen als antieslip bij het in- en uitstappen bij een bushalte


Vraag 4. Provincialeweg N48, Ommen - Balkbrug



Hoe hard mogen weggebruikers hier maximaal rijden?

- a. 120 km/uur
- b. 100 km/uur
- c. 80 km/uur

Vraag 5. Dalfsen. Kruising Prins Bernhardstraat - Vechtvlief



De rode auto nadert een kruising met een uitritconstructie. Wat is de volgorde van voor laten gaan?

- a. Auto, voetganger, fietser
- b. Voetganger, fietser, auto
- c. Fietser, voetganger, auto

Vraag 6. Dalfsen, Molenstraat.



Wat betekent het blauwe verkeersbord?

- a. Dit is een woonerf. Weggebruikers moeten stapvoets rijden en mogen overal parkeren.
- b. Dit is een woonerf. Auto's moeten geparkeerd worden binnen de aangegeven vakken (P)
- c. Dit is een winkelstraat. Vanaf deze zijde mag je met je auto de straat niet inrijden

Vraag 7. Kruising, Raiffeisenstraat – Burgemeester van Haersoltestraat



Je nadert met de fiets deze kruising en je wilt rechtdoor rijden

De fietser met kind komt aanrijden en wil rechtdoor rijden

De lichtblauwe auto wil ook rechtdoor.

Wat is de volgorde van voor laten gaan?

- Ik zelf met de fiets, fietser met kind, auto,
- Auto, fietser met kind, ik zelf met de fiets
- Auto en ik zelf met de fiets, fietser met kind


Vraag 8. Dalfsen. Kruising Leemculeweg - Grutterserf
Van gebied Zone 30 naar voorrangsweg



De rode auto remt en verlaat het gebied Zone 30. De auto nadert en passeert een voorrangskruising. Welke snelheid mag de rode auto nu maximaal gaan rijden op de kruisende weg?

- a. 50 km/uur
- b. 60 km/uur
- c. 80 km/uur

Vraag 9. Kruising Zandspeur - Bosmansweg



Je nadert met de fiets deze kruising en je wilt links af.
De zwarte auto wil rechts af slaan en de grijze auto wil links af
Wat is de volgorde van voor laten gaan?

- Ik zelf met de fiets, auto zwart, auto lichtblauw
- Auto zwart, ik zelf met de fiets, auto lichtblauw
- Auto zwart, auto lichtblauw, ik zelf met de fiets

Vraag 10: Koningin Julianalaan, schoolomgeving



Wat is de betekenis van doorgetrokken gele strepen op de stoeprand

- a. Dat je hier stapvoets moet rijden
- b. Je mag wel stoppen maar niet parkeren
- c. Je mag niet stoppen en niet in- en uitstappen

Vraag 11. Kusing Burgemeester Backxlaan - Raiffeisenstraat



Je komt met de fiets richting het kruispunt en je wilt linksaf slaan

De rode auto wil links af en de lichtblauwe auto wil rechts af

Wat is de volgorde van voor laten gaan?

- Ik zelf met de fiets, rode auto, lichtblauwe auto
- Lichtblauwe auto, ik zelf met de fiets, rode auto
- Rode auto, ik zelf met de fiets, lichtblauwe auto

Vraag 12. Burgemeester Backxlaan, schoolomgeving




Je nadert in de winkelstraat binnen bebouwde kom een verkeersbord.

Bij deze plek staan soms verkeersbrigadiers

Hoe hard mogen weggebruikers hier maximaal rijden wanneer er verkeersbrigadiers staan?

- a. 15 km/uur
- b. 30 km/uur
- c. 50 km/uur

Vraag 13. Dalfsen. Kruising Prins Bernhardstraat - Irenestraat



Je bent op de fiets en je wilt hier rechts af
Wat is de volgorde van voor laten gaan.

- a. Auto, voetganger, fietser
- b. Fietser, auto, voetganger
- c. Voetganger, fietser, auto

Vraag 14. Dalfsen. Kruising Poppenallee - Emmerweg



Ligt deze kruising van wegen binnen of buiten de bebouwde kom?

- a. Buiten de bebouwde kom
- b. Binnen de bebouwde kom
- c. Aan bebording kun je niet zien of een kruising binnen of buiten de bebouwde kom ligt.

Vraag 15. Dalfsen. Kruising Wilhelminastraat - Welsummerstraat



Je nadert deze kruising en je wilt linksaf slaan.
De twee fietsers komen aanrijden en willen rechtsaf.
De voetganger wil rechtdoor.

Wat is de volgorde van voor laten gaan?

- a. Twee fietsers, voetganger, ik zelf met de fiets
- b. Twee fietsers, ik zelf met de fiets, voetganger
- c. Voetganger, twee fietsers, ik zelf met de fiets

Vraag 16. Dalfsen. Vechtdijk



- a. De vrachtwagen mag hier stilstaan omdat de witte streep onderbroken is
- b. De vrachtwagen mag hier stilstaan omdat hij zijn alarmlichten aan heeft staan
- c. De vrachtwagen mag hier niet stilstaan omdat hij op een verplicht fietspad staat

Vraag 17. Dalfsen. Kruising Raadhuisstraat - Bruinleeuwstraat



De rode auto nadert de kruising en wil links af.

De scooter wil rechtdoor. De voetganger wil ook rechtdoor.

Wat is de juiste volgorde van voor laten gaan?

- Scooter, auto, voetganger
- Scooter, voetganger, auto
- Auto, scooter, voetganger ,

Vraag 18. Dalfsen. Franse Pad



Wat is het juiste antwoord wat van toepassing is bij deze parkeergelegenheid

- De lichtblauwe auto staat geparkeerd in een gebied "Zone 30"
- De lichtblauwe auto staat geparkeerd in een gebied "Blauwe Zone"
- De lichtblauwe auto staat geparkeerd in een gebied "Woonerf"

Vraag 19. Kruising Zandspeur – Burgemeester van Haersoltestraat



De vrachtwagen wil linksaf. De voetgangers willen beide rechtdoor.
Wat is de volgorde van voor laten gaan?

- Vrachtwagen, voetganger man, voetganger dame
- Voetganger man, vrachtwagen, voetganger dame
- Voetganger man, voetganger dame, vrachtwagen

Vraag 20. Hessenweg. Dalfsen - Ommen



Hoe hard mogen weggebruikers op deze weg hier maximaal rijden

- a. 60 km/uur
- b. 80 km/uur
- c. 100 km/uur

Wil je ook je eigen verkeerskennis nog verder testen, doe dan ook de gratis online opfriscursus: <https://opfriscursus.vvn.nl/v/start>